

150 увлекателни дейности и задачи

УЧА ЛЕСНО

СМЯТАМ БЪРЗО

за деца от 5 до 8 години




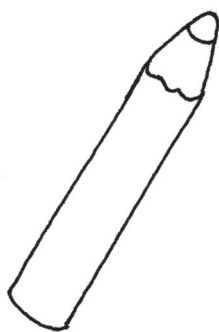

оцвети / намери / попълни / пресметни

РААБЕ

Издателство РААБЕ България ЕООД
София, 2019





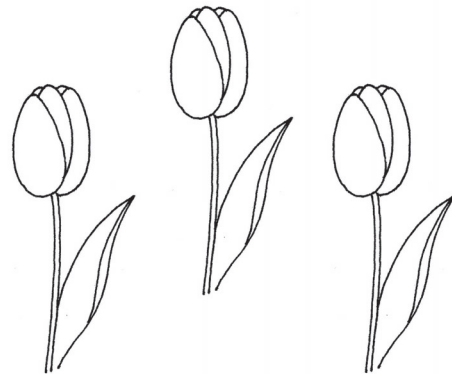

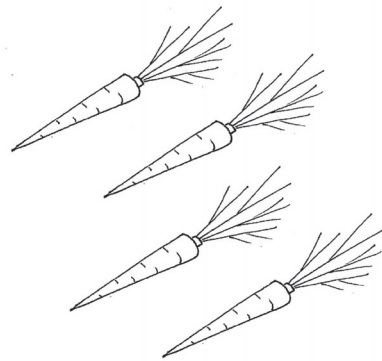


РАЗДЕЛЯНЕ НА СРИЧКИ

Кажете на глас какво виждате на всяка картинка, а после произнесете всички гуми на срички.



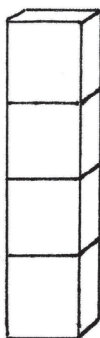
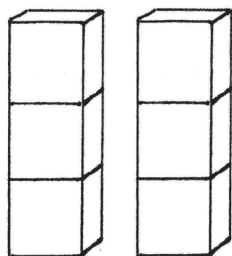
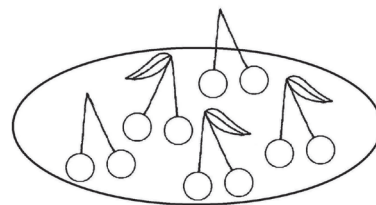
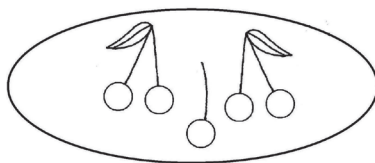
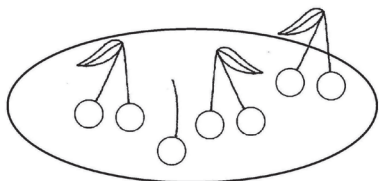


БРОЕНЕ

Преброй колко животни има на първия ред; зеленчуци – на втория; цветя – на третия; геометрични фигури – на четвъртия.



НАЙ-МНОГО - НАЙ-МАЛКО

На всеки ред намери тази картинка, която има най-много елементи (цветя, черешки, кубчета и ноти) и я огради в червено. После на всеки ред огради със синьо тази, която има най-малко елементи.




Колко сме?



Семействата са с различна големина.



Преброй колко членове на семейството са в кухнята, в дневната и в детската стая. Във всяка стая запиши получените брой с точки или с цифра. После преброй колко хора има в цялата къща.




Сянка



Сянката на човек или предмет се появява само тогава, когато е осветен от някаква светлина. Ако предметът е прозрачен, тогава няма сянка, защото светлината минава през него.



Разгледай картината и покажи навсякъде, където виждаш сянка.



Потърсете с децата в интернет или в детска енциклопедия информация за слънчевото и лунното затъмнение и им разкажете за тях.

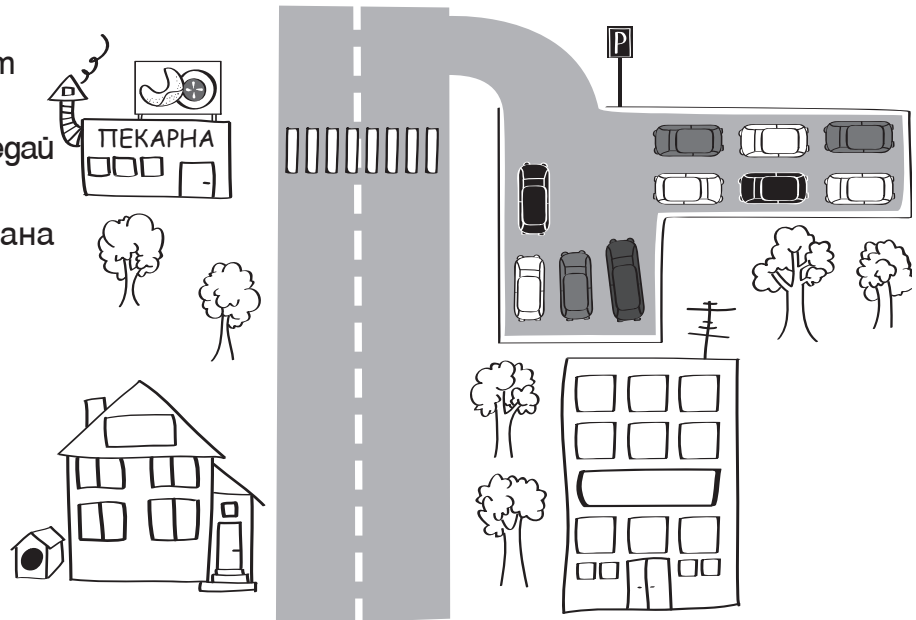
Сравняване на числата до 10 ляво/дясно

Здравей, аз съм Мишо.
А аз – Лъчо.
Ние сме двама приятели,
от една улица.
Каним те на забавно броене!



Нашата улица

Мишо и Лъчо са приятели. Живеят на една улица. Внимателно разгледай картинката, където е нарисувана тяхната улица.



1

Избери и огради верния отговор.

- А. От дясната страна на улицата има 2/4/6/8 дървета.
- Б. От лявата страна на улицата има 2/4/6/8 дървета.
- В. Повече дървета има от дясната/лявата страна.
- Г. От дясната страна има 2/4/6/8 дървета повече/по-малко отколкото на лявата страна.
- Д. На паркинга има 7/8/9/10 автомобили.
- Е. Пешеходната пътека има 2/4/6/8 линии.

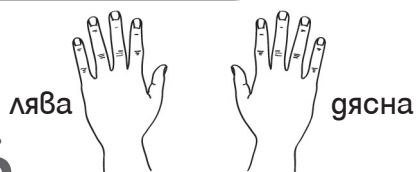
2

Запиши къде живее Мишо и къде Лъчо.

Лъчо живее в къща и има куче.


Мишо трябва да пресече на пешеходната пътека, за да може да си купи кроасани.

ЗАПОМНИ!



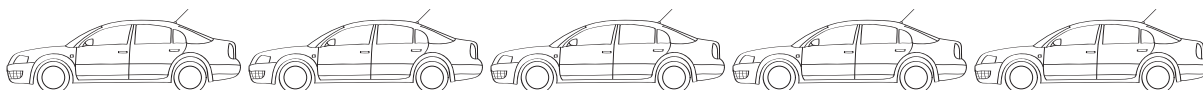
**Смятане до 10.
Текстови задачи
за повече или
по-малко**

Следобед ще вали!
На нас обаче няма да ни е
скучно.



Мишо и Лъчо си намериха нова игра. Броят автомобилите на паркинга пред тях. Разделиха паркираните автомобили според цвета им. На паркинга имаше три червени, три черни, два сини, един зелен и един жълт автомобил.

1 Оцвети автомобилите.



2 Запиши броя автомобили според цвета им.

цвят	червен	син	зелен		
брой автомобили	3			3	

3 Колко общо автомобили има на паркинга?

Напиши пълен отговор: _____

ЗАПОМНИ!

Паркингът не е игрище!





Събирането на плодовете продължава. Този път Лили и дядо ѝ отиват в гората. Събират шишарки, кестени, жълъди, орехи. После през зимата ще могат да хранят горските животни като им носят лакомства.

Лили пресмята събраната храна за животните.

1 Допиши числовите редици. В последната колона е резултатът.

шишарки	2	3					9		
кестени	3	4			7		10		
жълъди		11	12				16		
орехи	0	1				5		8	
лешници				14				19	

2 Лили събра _____ шишарки, _____ кестени, _____ жълъди, _____ орехи и _____ лешници.

3 Какво се случва в природата през есента? Свържи правилно двете части на изреченията

- | | | |
|---------------------------------|---|--------------------|
| Листата на дърветата и храстите | 1 | A за зимен сън. |
| Прелетните птици отлитат | 2 | Б храна за зимата. |
| Горските обитатели събират | 3 | В и падат мъгли. |
| Мечката се подготвя | 4 | Г капят. |
| Времето става по-студено | 5 | Д на юг. |

ЗАПОМНИ!

В края на ноември е време да подготвим храна за птиците.



1

Решу текстовата задача:

Мама имаше в портмонето си 85 лева. Тя отиде да купи подаръци за рождените дни на децата. В магазина хареса няколко неща наведнъж. Количка за Вальо за 20 лева, трактор за Стефан за 45 лева, настели за 15 лева, стикери за 5 лева, конструктор за 65 лева и топка за 10 лева. В магазина похарчи всички пари, които имаше. Какви подаръци е купила?

подарък	трактор		настели		топка	количка
цена		65 лева		5 лева		

Отговор: _____

2

Намери отговорите на въпросите в таблицата:

А) Кои подарък е най-скъп? _____

Б) Кои подарък е най-евтин? _____

В) С колко лева конструкторът е по-скъп от стикерите? _____

Г) С колко лева топката е по-евтина от настелите? _____

Д) Тракторът и топката заедно по-скъпи ли са от конструктора? ДА/НЕ

